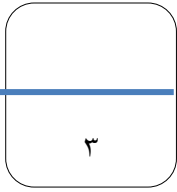


٢- صنفى الاشكال التالية الى نوع التعرية التي ساهمت في تكوينها

الموائد الصحراوية - السهل الفيضي - الاقواس - الخلجان -

نوع التعرية	المائية	الريحية	البحرية
الاشكال الارضية



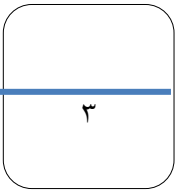
انظري إلى الصورة التي أمامك ثم اجيبي عن الاسئلة التالية



١- توضح الصورة شكل

٢- كيف يتكون

٣- تنتشر تلك الاشكال في السلطنة بما يقارب نسبة



من جد وجد ،،،،،،،،،،،،،،،، المذاكرة مع التركيز والتوكل على الله طريقك للتفوق.....

4

ختامي

تكويني

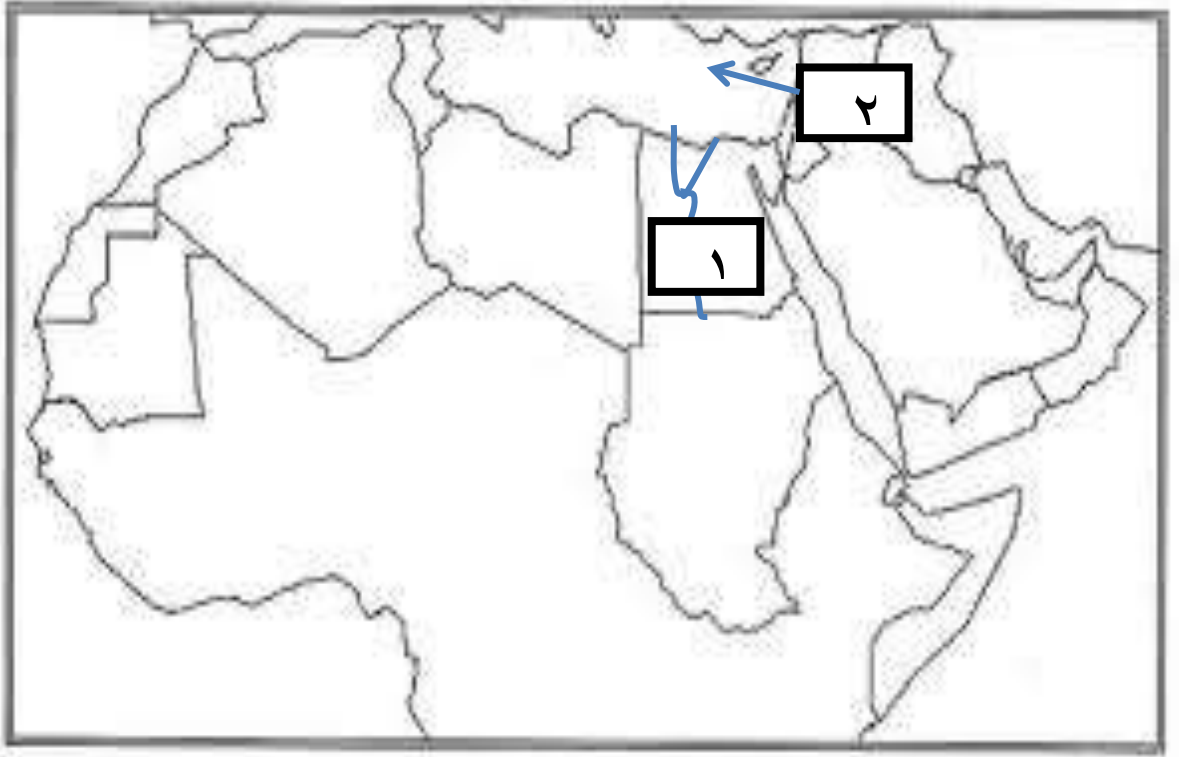
سؤال قصير

واجب منزلي

مدرسة: خديجة بنت خويلد مادة: الدراسات الاجتماعية عنوان الوحدة /العوامل الخارجية
المؤثرة في تشكيل سطح الارض
الدرس التعرية المائية الهدف من السؤال القصير / التعامل مع الخرائط

سؤال قصير (١)

انظري الي خريطة الوطن العربي التي امامك ثم اجبي عن الاسئلة التالية :-



١-يشير الرقم ١ إلى دلتا نهر والتي تتأخذ شكل

٢- مصب هذا النهر والمشار إليه بالرقم ٢ هو

٣- اذكرى اهم الشروط اللازمة إلى تكون الدلتا يكتفي بذكر اثنين ؟

.....
.....
.....